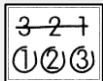
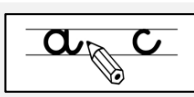
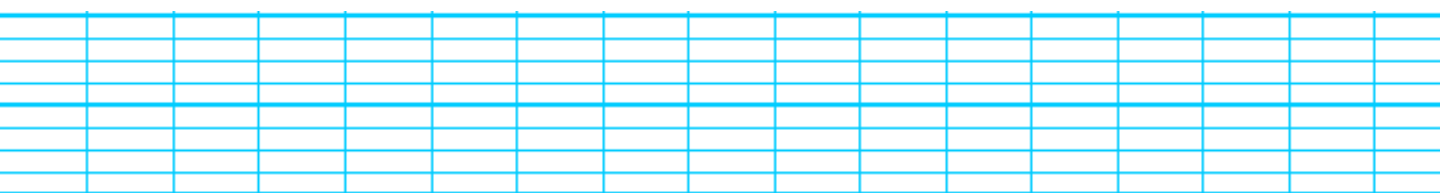


Les nombres de 0 à 59




1 Range les nombres du plus petit au plus grand.

20 16 3 11 35 42



2 Complète les cases vides du tableau.

	2	3			...	7			...
11	12		14	15	16	...	18	19	20
21				...	26	27	...	29	30
...	32	33	...	35	...			39	40
41	...	43		...		47	48
			...	55	...	57	58	59	60
61	64	65	...	67		...	70



3 Complète les nuages ou les cases.

Clouds: Cloud 36 37 Cloud

●●●● ●●●●● ●●●●●●●●

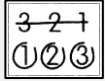
▬▬ ▬▬▬▬ ▬▬▬▬▬▬

▬▬ ▬▬ ▬▬

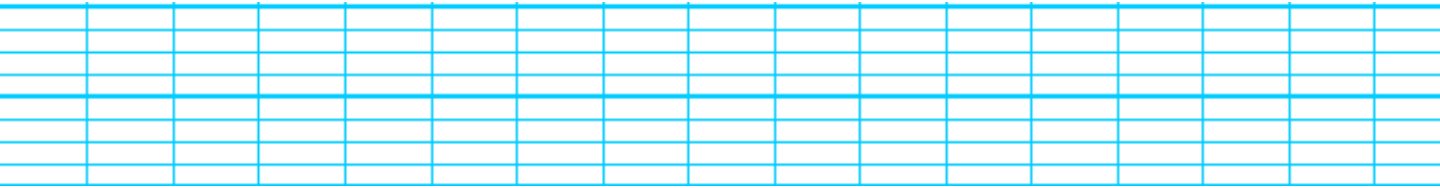
▬▬ ▬▬ ▬▬

Les nombres de 0 à 59

2



1 Range les nombres du plus petit au plus grand.



2 Complète les cases vides du tableau.

1	2	...	4	5	...	7	8	9	10
11	12	...	14	15	...	17	18	19	20
...
31	32	...	34	35	...	37	38	39	40
...
51	52	...	54	55	...	57	58	59	60
61	62	...	64	65	...	67	68	69	70



3 Relie chaque calcul au bon résultat.

- | | | | |
|-------------------------|---|---|----|
| $10 + 10 + 10 + 2$ | ● | ● | 14 |
| $10 + 10 + 10 + 10 + 3$ | ● | ● | 32 |
| $10 + 4$ | ● | ● | 41 |
| $10 + 10 + 10 + 10 + 1$ | ● | ● | 43 |
| $10 + 10 + 3$ | ● | ● | 23 |