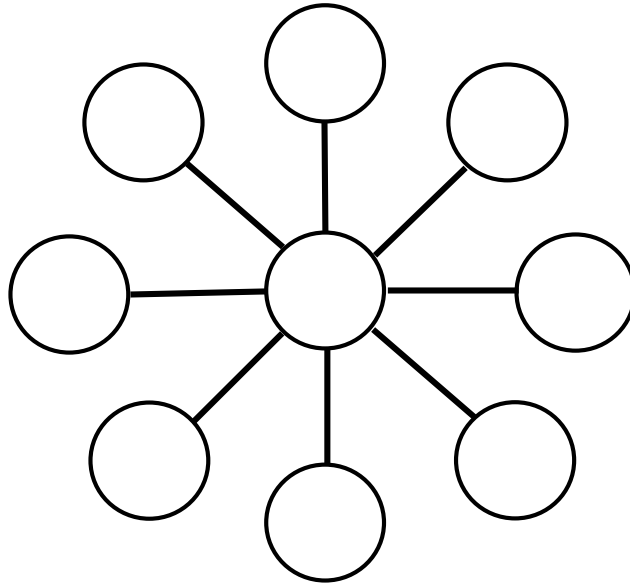


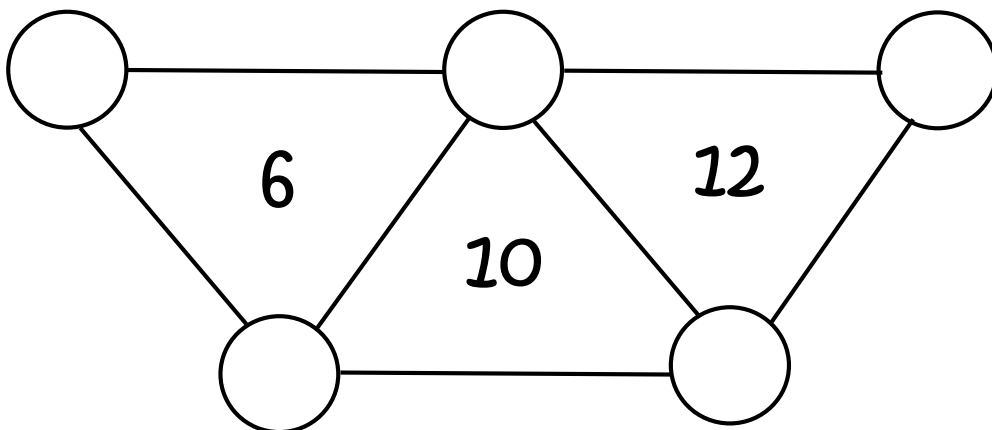
ÉNIGME NUMÉRO 1

Place les nombres de 1 à 9 dans les cercles afin que la somme des 3 nombres sur chaque ligne soit égale à 15.



ÉNIGME NUMÉRO 2

Place les nombres de 1 à 5 dans les cercles. La somme des nombres situés aux sommets de chaque triangle est indiquée dans le triangle.



ÉNIGME NUMÉRO 3

Marina, Yasmina, Théo et Nahel mangent régulièrement des fruits : oranges, bananes, pommes et poires.

Trouvez le fruit de chacun.

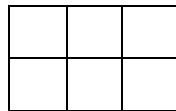
Yasmina ne mange ni pomme ni poire.

Théo ne mange que des poires.

Nahel n'aime pas les pommes et encore moins les bananes.

ÉNIGME NUMÉRO 4

Trouve le nombre de carrés et de rectangles qui se cachent dans cette figure.



ÉNIGME NUMÉRO 5

Je suis un nombre à 3 chiffres inférieur à 400.

Mon chiffre des unités est le double de celui des dizaines.

Le chiffre des centaines est le même que celui des dizaines.

La somme de mes chiffres est 8. Quel nombre suis-je ?

