

Parcours A

Observe les figures, puis complète le tableau.

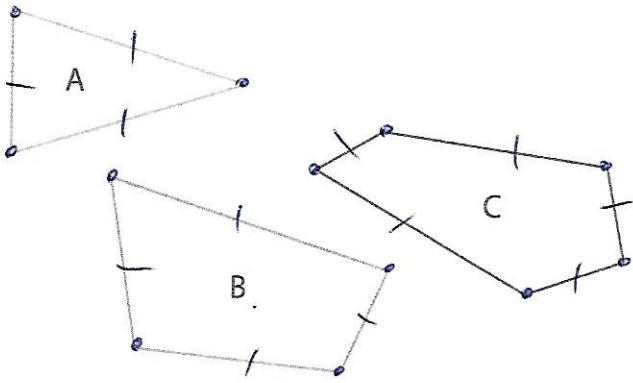
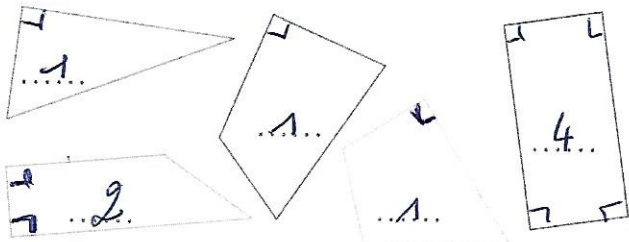


	Figure A	Figure B	Figure C
Nombre de sommets	3	4	5
Nombre de côtés	3	4	5
Nombre d'angles	3	4	5

Attention! Ce ne sont pas des angles droits!

Indique le nombre d'angles droits pour chaque polygone.



Parcours B

Observe les figures, puis complète le tableau.

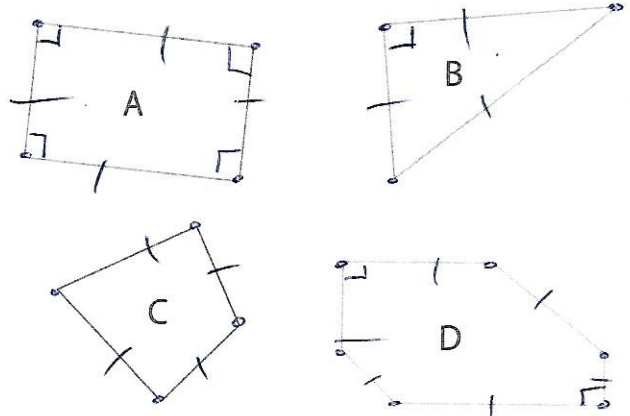
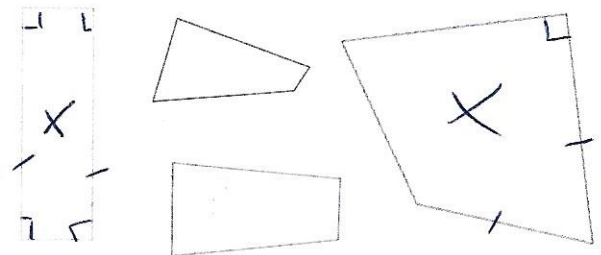



	Figure A	Figure B	Figure C	Figure D
Nombre de sommets	4	3	4	6
Nombre de côtés	4	3	4	6
Nombre d'angles (en tout)	4	3	4	6
Nombre d'angles <u>droits</u>	4	1	0	2

Colorie en bleu les polygones qui ont au moins un angle droit et deux côtés de 3 cm.



Décris les polygones suivants.

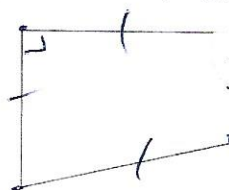


- Nombre de côtés : 3
- Nombre de sommets : 3
- Nombre d'angles droits : 1

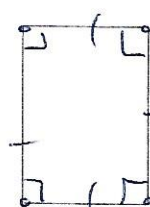


- 5 côtés
- 5 sommets
- 3 angles droits

Décris les polygones suivants.



- Nombre de côtés : 4
- Nombre de sommets : 4
- Nombre d'angles droits : 1



- Nombre de côtés : 4
- Nombre de sommets : 4
- Nombre d'angles droits : 4