

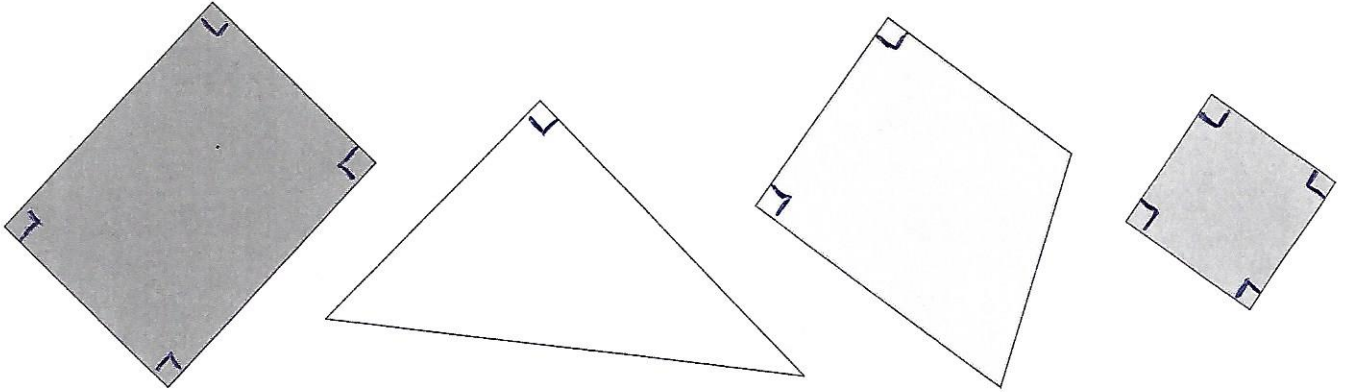
Les polygones



Compétences : Décrire les polygones. Connaître et utiliser le vocabulaire approprié pour décrire les figures planes usuelles.

Découvrir

Adrien et Élixa jouent au jeu du portrait géométrique. Voici les figures qu'ils doivent décrire.



A. Adrien commence. Voici ce qu'il dit :
 « La figure que j'ai choisie est un polygone.
 Il a 4 côtés, dont deux de 3 cm.
 Il n'a que 2 angles droits. »

Quelle est la figure choisie par Adrien ?

..... La figure bleue

B. Lorsqu'ils ont terminé de décrire les 4 polygones, ils doivent compléter un tableau.

Aide-les à le compléter.

Un polygone est une figure qui a plusieurs côtés.

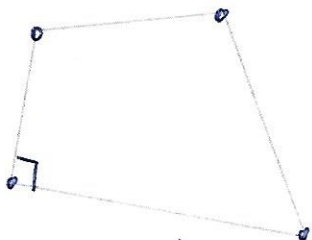


	Polygone bleu	Polygone rouge	Polygone jaune	Polygone vert
Nombre de sommets	4	4	3	4
Nombre de côtés	4	4	3	4
Nombre d'angles droits	2	4	1	4

Polygone avec 4 côtés = quadrilatère
 Polygone avec 3 côtés = triangle

Appliquer

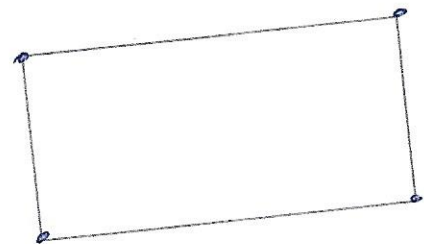
Décris les polygones suivants.



Nombre de sommets : ... 4 ...

Nombre de côtés : ... 4 ...

Nombre d'angles droits : ... 1 ...



Nombre de sommets : ... 4 ...

Nombre de côtés : ... 4 ...

Nombre d'angles droits : ... 4 ...

Calcul mental : Ajouter des dizaines entières à un nombre à 3 chiffres.